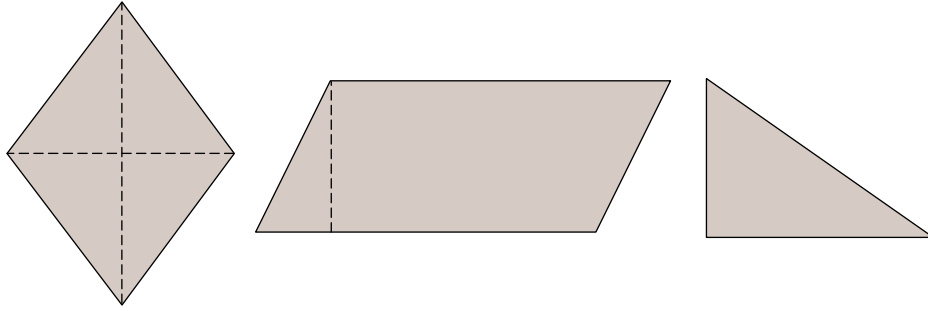
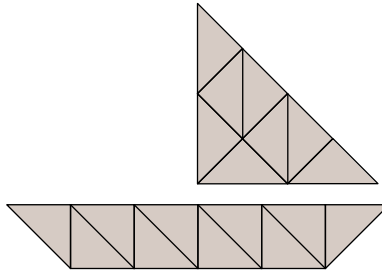


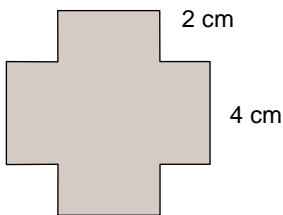
1. Mide las siguientes figuras y calcula su área.



2. Calcula el área del barco sabiendo que la base de cada triángulo mide 1,2 cm y la altura 0,6 cm.



3. Calcula el área de la siguiente figura.



4. El padre de Ainhoa necesita hacer 4 trapos triangulares para limpiar los cristales con una tela cuadrada de 80 cm de lado. ¿Cuánto medirá la superficie de cada trapo?

5. Miguel ha construido un dibujo con 50 cuadrados de 1 cm de lado y 24 triángulos rectángulos de 1 cm de base y 1 cm de altura. ¿Cuál es el área del dibujo construido?